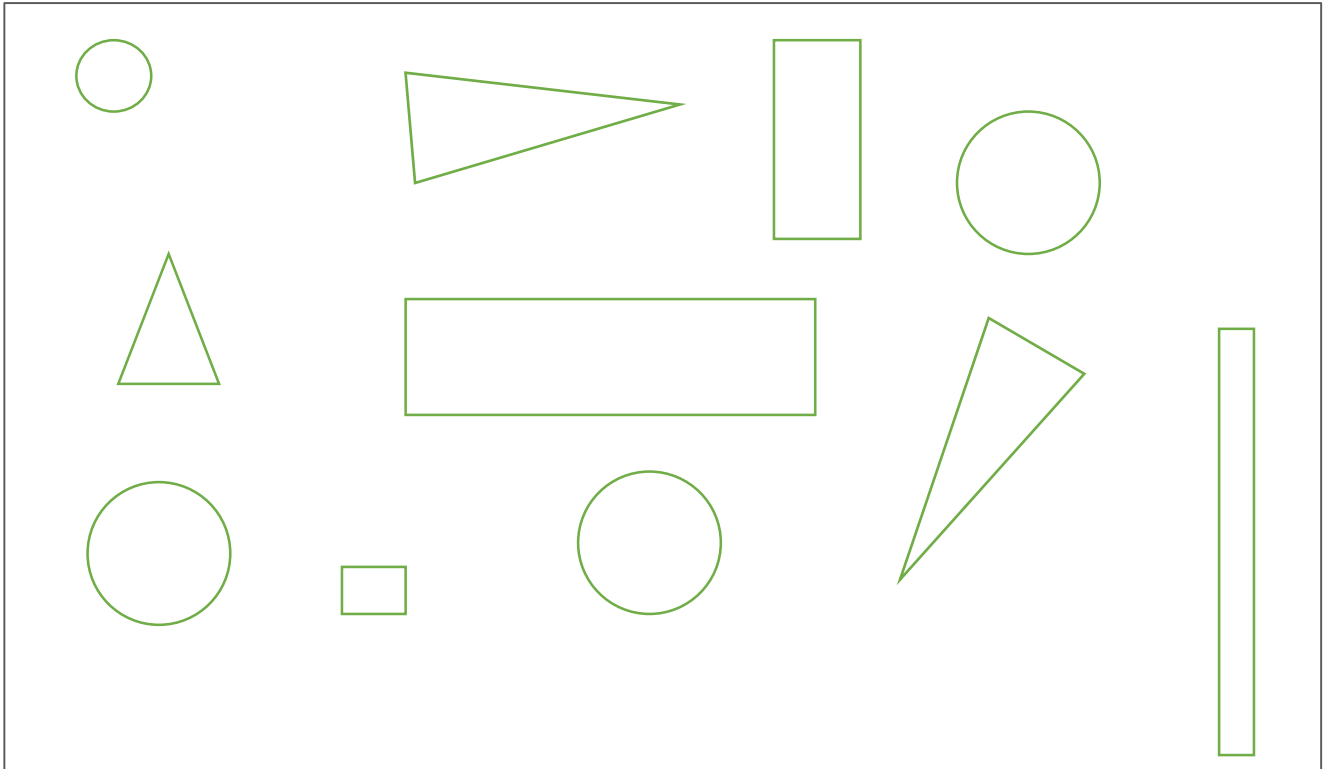


راهنما: در شکل زیر از هر کدام چند تا می بینی؟



من تعداد دایره و گردی می بینم.


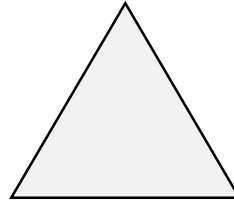

من تعداد مثلث / سه گوشه می بینم.

من تعداد مربع و مستطیل / چهار گوشه می بینم.

« راه رشش »؛ راهی به سوی آموزش و یادگیری برتر


کاربرد درک مفهوم: شناخت شکل ها

راهنما: در زیر هر شکل، شکلی شبیه آن رسم کن



کاربرد درک مفهوم: شناخت شکل ها

راهنما: به شکل های ستون سمت چپ نگاه کن و شکلی شبیه آن را از سمت راست پیدا کن. با خط به هم وصل کن.



کاربرد درک مفهوم: شناخت شکل ها

راهنما: به شکل های ستون سمت راست نگاه کن و شکلی شبیه آن را از سمت چپ پیدا کن. با خط به هم وصل کن.

