












نام: .....







با شمارش ۲ تا ۲ تا بگو در مجموع چند تا زنبور وجود دارد؟

			
<u>    ۲    </u>	<u>    ۴    </u>	<u>          </u>	<u>          </u>

با شمارش ۲ تا ۲ تا بگو در مجموع چند تا مداد وجود دارد؟

				
<u>          </u>	<u>          </u>	<u>          </u>	<u>          </u>	<u>          </u>

با شمارش ۲ تا ۲ تا بگو در مجموع چند تا پرنده وجود دارد؟

					
<u>          </u>	<u>          </u>	<u>          </u>	<u>          </u>	<u>          </u>	<u>          </u>