

کاربرگ جامع آموزش اعداد

تهیه شده توسط سایت آموزش کودک و نوجوان «راه رسش»

نقطه چین ها را ردیابی کن و بنویس!



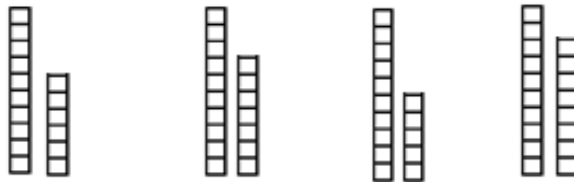
هجده



مشخص کن زوج است
یا فرد؟

زوج فرد


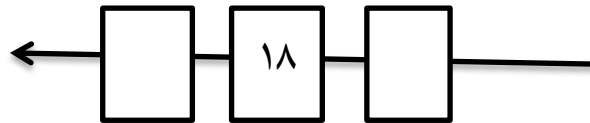
کدام یک از دسته های زیر عدد ۱۸ را نشان می دهد؟ دور آن را خط بکش.



۱۸ تا از ستاره ها
را رنگ بزن



داخل جعبه های خالی را با نوشتن اعداد قبل و بعد کامل کن!



با کشیدن چوب خط عدد ۱۸ را نشان بده.

